

Код участника 9-23

Всероссийская олимпиада школьников
муниципальный этап

ОБЗР
(предмет)

Олимпиадная работа

обучающегося 9а класса

МБОУ СШ №9 имени И.Ф.Угалева

Редорченко Анна Андреевна
(ФИО полностью)

18.07.2010
(дата рождения участника)

самоподготовка
ФИО (полностью) ПРЕПОДАВАТЕЛЯ, подготовившего к ВсОШ
в случае отсутствия педагога - писать «самоподготовка»

2025 год

Индивидуальный шифр участника

ОБЗР
9-23

9 класс

ТЕОРЕТИЧЕСКИЙ ТУР (70 минут)

Задание № 1 оценивается в 5 баллов, № 2 – в 12 баллов, № 3 – в 10 баллов, № 4 – в 10 баллов, № 5 – в 15 баллов, № 6 – 18 баллов.

Максимальная оценка – 70 баллов.

Задание 1.

Дополните:

Издав 1 октября 1550 года Указ «Об
испомещении в Московском и окружающих
уездах избранной тысячи служилых людей»,
Петр 1 заложил основы
русской регулярной армии. Этим Указом
было сформировано первое постоянное
войско, имевшее признаки регулярной армии.



Максимальная оценка за правильно выполненное задание 5 баллов.

Задание 2.

Напишите, как насекомые помогают предсказывать погоду:

Мухи _____

Комары _____

Кузнечики _____

Пчёлы улучшение настроения и то, что они прячутся в ульи, значит
будет дождь

Стрекозы _____

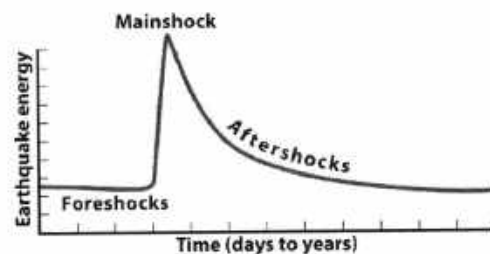
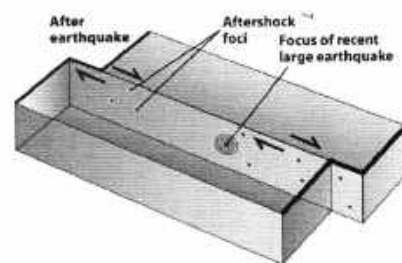
Муравьи прячутся в муравейники

Максимальная оценка за правильно выполненное задание 12 баллов.

Задание 3.

Охарактеризуйте, что такое афтершоки (3 балла), и чем они опасны (7 баллов):

Handwritten answer area with horizontal lines and a large, loopy scribble.



Максимальная оценка за правильно выполненное задание 10 баллов.

Задание 4.

Укажите названия знаков и обозначений:



А




Б



В



Г



Д

А ~~вероятно~~ пожароопасное место ✓

Б Путь к аварийному выходу ✓

В место нахождения огнетушителя ✓

Г разжимать стиги запрещено —

Д пожарный плант —

Максимальная оценка за правильно выполненное задание 10 баллов.

Задание 5.

Напишите, к каким последствиям может привести недостаточное освещение рабочего места:

1. ухудшение зрения ✓

2. снижение концентрации. —

3. молот, чтобы увидеть, что написано, придется наклониться. —

4. —

5. 3 —






Максимальная оценка за правильно выполненное задание 15 баллов.

Задание 6.

«Собака друг человека». В то же время нередки случаи, когда «друг» становится «не другом».

Отметьте, какая порода является агрессивной, а какая нет, галочкой справа или слева от фотографии.

агрессивная	порода	не агрессивная
✓ ✓	 <p>беспородная</p>	

✓		
0		✓
✓		
✓		✓
0		✓

12 Максимальная оценка за правильно выполненное задание 18 баллов

ИТОГО БАЛЛОВ:

ПОДПИСИ ЧЛЕНОВ КОМИССИИ:

21

Индивидуальный шифр **0Б3Р**
9 - 2 3

9 класс
ТЕСТИРОВАНИЕ (20 минут)

Тесты №№ 1-10 предусматривают выбор одного правильного ответа и оцениваются в 1 балл; №№ 11-20 – нескольких правильных ответов и оцениваются в 2 балла. Максимальная оценка – 30 баллов.

№ п/п	Тестовые задания	Ваш ответ	Макс балл	Кол-во баллов
Определите ОДИН правильный ответ				
1	Что такое двухфакторная аутентификация? а) дополнительный способ подтверждения личности б) вид компьютерной игры в) настройка электронной почты		1	1
2	Какое требование предъявляется при строительстве убежища? а) убежище должно иметь один вход б) убежище строится на незатопляемой территории в) высота потолков 1,7 метра г) оснащение стен свинцовой прослойкой д) наличие источника водоснабжения и системы очистки воды		1	0
3	По каким критериям проводится классификация чрезвычайных ситуаций? а) по масштабу их распространения и тяжести последствий б) по количеству задействованных людей в) по уровню реакции в мировом сообществе г) по длительности восстановительных работ		1	1
4	Что представляет собой опасность при спасении человека на воде? а) ныряние б) температура воды в) загрязнение воды г) захват спасателя тонущим		1	1
5	Почему опасно во время землетрясения и после его пользоваться открытым огнем? а) из-за возможности пожара б) из-за возможности утечки газа в) из-за эмоциональной нестабильности г) это считается плохой приметой		1	0
6	Где должен быть заключен брак, чтобы его признали законным? а) в ЗАГСе б) в церкви в) в ЗАГСе и церкви		1	1

7	Какие регионы России наиболее подвержены цунами? а) Восточное побережье Камчатки и Курильских островов б) Северо-Западный федеральный округ в) Северный Кавказ		1	1
8	Какое опасное природное явление является геологическим? а) смерч б) цунами в) зазор г) обвал		1	0
9	Как называется ситуация, когда человек случайно, в силу независящих от него обстоятельств, оказывается в природной среде и вынужден самостоятельно обеспечивать свои жизненные потребности, чтобы выжить и вернуться к людям? а) вынужденная автономия б) самореализация в) испытание г) автономное существование человека в природной среде		1	1
10	Как нужно плыть, если ноги или руки свело судорогой? а) на боку б) на спине в) на животе г) можно уже не плыть		1	1
Определите НЕСКОЛЬКО правильных ответов				
11	Что из перечисленного рекомендуется делать для безопасности в интернете? а) не использовать один и тот же пароль в разных аккаунтах б) раз в полгода менять интернет-провайдера в) иметь дубликаты всех важнейших документов и личных данных на яндекс-диске г) не открывать письма от незнакомых отправителей д) регулярно обновлять антивирусное ПО		2	1
12	В каких случаях следует эвакуироваться самостоятельно? а) при голосовании большинством голосов пострадавших б) при видимости незатопленной территории в) при угрозе ухудшения обстановки г) при необходимости медицинской помощи д) если закончились продукты и вода е) если ожидание помощи вызывает психологическое страдание		2	1
13	Как правильно себя вести при проваливании под лед? а) осознать неправильность поведения, приведшего к этому, смириться и замереть б) выбираться, не вставая в) совершать резкие движения, барахтаться г) выбираться в сторону, откуда пришли		2	2

14	<p>Что относится к взрывопожароопасным объектам?</p> <p>а) школы, не оборудованные бассейном <input checked="" type="radio"/> б) предприятия, использующие взрывоопасны и легковоспламеняющиеся вещества в) железнодорожный транспорт г) трубопроводы д) библиотеки е) стадионы</p>		2	1
15	<p>Какие ситуации относятся к чрезвычайным ситуациям техногенного характера?</p> <p>а) пожары <input checked="" type="radio"/> б) взрывы <input checked="" type="radio"/> в) терроризм г) лесные пожары д) наркомания е) землетрясение</p>		2	1
16	<p>Что включает в себя призыв на военную службу?</p> <p>а) заседание призывной комиссии б) медицинское освидетельствование в) система физической подготовки к службе г) система психологической подготовки к службе <input checked="" type="radio"/> д) нахождение в военном комиссариате для отправки к месту прохождения службы</p>		2	1
17	<p>Какие социальные процессы обеспечивают безопасность личности и общества?</p> <p><input checked="" type="radio"/> а) повышение уровня образования и культуры б) введение жестких ограничений свободы передвижения <input checked="" type="radio"/> в) законодательная поддержка семьи и детства <input checked="" type="radio"/> г) увеличение количества охранников в школах и учреждениях д) устойчивое экономическое развитие регионов</p>		2	1
18	<p>Какие меры предосторожности обязательны при эксплуатации бытовых приборов?</p> <p>а) использование заземленных розеток б) хранение электрических устройств рядом с источниками влаги <input checked="" type="radio"/> в) своевременная замена изношенных проводов <input checked="" type="radio"/> г) регулярная проверка технического состояния приборов д) прокладка электропроводов открытым способом</p>		2	1
19	<p>Какие признаки указывают на возможную угрозу террористического акта?</p> <p><input checked="" type="radio"/> а) появление подозрительных предметов или пакетов б) паника среди прохожих в) присутствие большого числа сотрудников полиции г) несоответствующее обстановке поведение людей <input checked="" type="radio"/> д) громкий шум и хлопки неизвестного происхождения</p>		2	1

20	<p>Укажите сферы военного применения беспилотных летательных аппаратов (БПЛА):</p> <p>а) разведка</p> <p>б) поиск пропавших людей</p> <p>в) обнаружение целей и выполнение боевых задач</p> <p>г) метеорологические исследования</p> <p>д) аэрофотосъемка для получения красивых кадров</p>		2	2
----	--	--	---	---

ИТОГО БАЛЛОВ: 17

ПОДПИСИ ЧЛЕНОВ КОМИССИИ:

